

「試題剖析站」、「即學即畫」及「DRQ 研習室」合輯 5 下

環節	內容簡介	適用冊數	適用範圍	使用說明	頁數
試題剖析站	分析香港薪俸稅制的變化所帶來的影響	5 下	第 8 章-->8.4 (pp.26-29)	提供答題步驟，分析香港薪俸稅制的變化所帶來的影響	1
DRQ 研習室	香港人口趨勢	5 下	第 8 章-->課後評估	提供「數據」類資料，讓學生分析人口趨勢與財政盈餘的關係	2
試題剖析站	分析匯率的改變如何影響出口總值	5 下	第 9 章-->9.2 (pp.44-48)	提供步驟，以例題分析匯率的改變如何影響出口總值	3
試題剖析站	計算國際收支差額	5 下	第 9 章-->9.3 (pp.49-63)	以例題說明如何計算國際收支差額	4
DRQ 研習室	匯率與本地旅遊業	5 下	第 9 章-->課後評估	提供「文字」及「數據」類資料，讓學生分析匯率變動的影響	5-6
試題剖析站	分析總需求的改變如何影響產出	5 下	第 10 章-->10.3 (pp.90-94)	以例題分析總需求的改變如何影響名義、實質及潛在產出	7
試題剖析站	分析事件如何影響長期均衡	5 下	第 10 章-->10.3 (pp.90-94)	以例題分析事件如何影響長期的物價和產出水平	8

即學即畫	AD 及 LRAS 同時上升對物價水平及總產出的長期影響	5 下	第 10 章-->10.3 (pp.90-94)	提供繪圖步驟，逐步學習如何畫圖顯示 AD 及 LRAS 同時上升的影響。	9
DRQ 研習室	廣深港高速鐵路（香港段）	5 下	第 10 章-->課後評估	提供「文字」及「圖像」類資料，讓學生分析廣深港高速鐵路（香港段）對不同方面的影響	10
試題剖析站	分析公共投資項目的影響	5 下	第 10 章-->10.3 (pp.90-94) 及第 11 章-->11.2 (pp.106-115)	以例題分析公共投資項目如何影響就業人口、物價水平及潛在產出	11
試題剖析站	分析事件如何影響財政結餘及貿易差額	5 下	第 8 章-->8.1 (pp.4-8) 、第 9 章-->9.3-->二 (pp.49-53) 及第 11 章-->11.2 (pp.106-115)	以例題分析事件如何影響財政結餘及貿易差額	12

DRQ 研習室	徵收美國產品的報復性關稅	5 下	第 11 章-->課後評估	提供「文字」及「圖像」類資料，讓學生以需求與供應、價格功能及 AS-AD 模型分析徵收關稅的影響	13
試題剖析站	分析財政政策及市場力量如何消除通貨緊縮差距	5 下	第 11 章-->11.4 (pp.120-127) 及第 12 章-->12.3-->一 (pp.148-150)	以例題分別解釋財政政策及市場力量如何消除通貨緊縮差距	14
試題剖析站	如何找出絕對優勢及比較優勢	5 下	第 13 章-->13.2 及 13.3 (pp.174-186)	以例題說明如何找出絕對優勢及比較優勢	15
試題剖析站	如何計算貿易得益	5 下	第 13 章-->13.2 及 13.3 (pp.174-186)	以例題說明如何計算貿易得益	16
試題剖析站	在實施關稅及配額下，需求上升的影響	5 下	第 14 章-->14.2 (pp.198-203)	分別解釋在實施關稅及配額下，需求上升對一小型開放經濟的影響	17
試題剖析站	比較從量關稅及配額的影響	5 下	第 14 章-->14.2 (pp.198-203)	分別比較從量關稅及有效進口配額的影響	18-19
DRQ 研習室	保護主義	5 下	第 14 章-->課後評估	提供「文字」類資料，讓學生以關稅圖表及 AS-AD 模型分析徵收保護主義措施的影響	20-21

細閱以下資料，然後回答問題。

2016/17		2017/18		2018/19	
基本免稅額	\$132,000	基本免稅額	\$132,000	基本免稅額	\$132,000
標準稅率	15%	標準稅率	15%	標準稅率	15%
應繳稅收入	稅率	應繳稅收入	稅率	應繳稅收入	稅率
最初的 \$40,000	2%	最初的 \$45,000	2%	最初的 \$50,000	2%
其次的 \$40,000	7%	其次的 \$45,000	7%	其次的 \$50,000	6%
其次的 \$40,000	12%	其次的 \$45,000	12%	其次的 \$50,000	10%
餘額	17%	餘額	17%	其次的 \$50,000	14%
				餘額	17%

[香港薪俸稅 (2016-19)]

資料來源：《薪俸稅／個人入息課稅——免稅額、扣除及稅率表》，香港：稅務局，2018年。下載自 <https://www.ird.gov.hk/chi/pdf/pam61c.pdf>

參考 2016-19 香港薪俸稅制的變化。

- 跌入稅網的人數會否改變？（提示：基本免稅額決定稅基。）
- 稅率的累進程度會如何改變？（提示：邊際稅階及邊際稅率決定稅率的累進程度。）
- 納稅人之間的收入差距會如何改變？試加解釋。（提示：比較繳交累進薪俸稅的低薪及中等薪酬人士和按標準稅率交稅的高收入人士。）

答題步驟：

- 否，因為，_____ 沒有改變。
- 稅率的累進程度下降了，因為邊際稅階由 \$40,000 _____ \$50,000，而且除了第一個外，所有邊際稅階的稅率都 _____。
- 擴闊稅階和調低邊際稅率都會減輕繳交累進薪俸稅的納稅人的稅項負擔，但並不影響按標準稅率交稅的高收入人士。因此，納稅人的收入差距傾向 _____。

香港人口趨勢

相關概念：稅、財政結餘

細閱以下資料，然後回答問題。

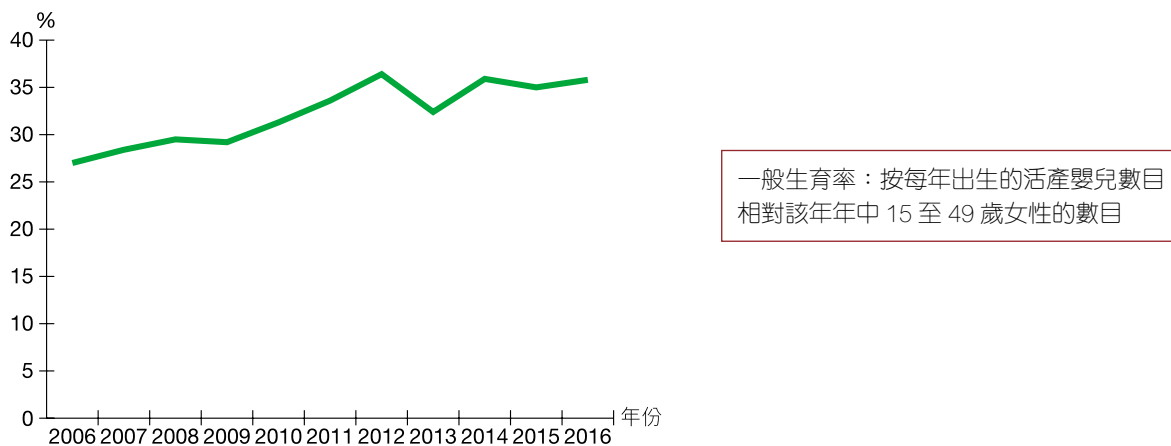
資料 A 香港以年齡組別劃分的人口分布

年齡組別	2006	2011	2016
0-14	14.2%	12.1%	11.8%
15-24	13.3%	12.7%	11.1%
25-54	49.7%	47.8%	44.7%
55-64	10.0%	13.5%	15.8%
65+	12.9%	13.9%	16.6%

	2006	2011	2016
年齡中位數 (年)	40.1	42.4	44.3

資料來源：《香港人口趨勢 1986-2016》，香港：政府統計處，2017 年，第 12 頁。

資料 B 香港的一般生育率



資料來源：《香港人口趨勢 1986-2016》，香港：政府統計處，2017 年，第 32 頁。

(a) 參考資料 A 及資料 B，討論以下各項的可能改變：

★★★ 討論

- (i) 將來的政府稅收
- (ii) 將來政府的公共醫療及社會福利支出
- (iii) 將來政府的財政結餘 (6 分)

(b) 在 2017-2018 財政年度，香港經濟繁榮，政府錄得破紀錄的財政盈餘。解釋為甚麼當「經濟向好」時通常會出現「財政盈餘」。(8 分)

★★ 解釋

(提示：答案應包括：1. 寫出財政盈餘／財政結餘的定義。2. 描述經濟向好時，(實質) GDP 會如何改變？3. 解釋直接稅稅收及間接稅稅收會如何跟隨 GDP 改變。4. 解釋政府(福利)支出會如何跟隨 GDP 改變。5. 解釋該政府稅收及支出的改變會如何影響財政結餘。)

試題剖析站

典型

假設日本從香港進口成衣，而匯率如下表般改變：

時期	100 日圓等於
時期 1	8 港元
時期 2	9 港元

假設香港的成衣價格（以港元計算）維持不變。

(a) 以圖輔助，解釋為甚麼輸往日本的香港成衣（以港元計算）的出口總值會上升。（7 分）

(b) 以另一圖輔助，解釋輸往日本的香港成衣（以日圓計算）的出口總值會如何改變。（7 分）

修改自香港中學文憑 2014 年 Q.11(a)

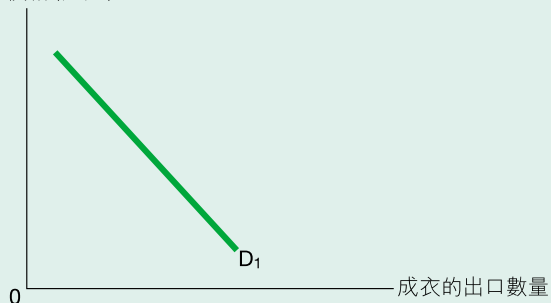
答題步驟：

(a) 在日本，香港成衣的需求 _____，因為香港成衣（以日圓計算）的價格下降。（2）

由於香港成衣價格維持在 P_1 ，出口數量 _____。（1）

總出口價值（以港元計算）會 _____。（1）

價格(港元)



① 指出需求如何改變，並加以解釋。

② 指出在固定價格下，出口數量會如何改變。

③ 指出以港元計算，總出口價值會如何改變。

④ 價格（以港元計算）是固定的。

⑤ 在圖中標示「得益」。

(b) 港元兌日圓 _____。（1）

成衣價格（以日圓計算）會 _____，出口數量會 _____。（1）

若需求是 _____，即價格改變的百分率 _____ 需求量改變的百分率，總出口價值會上升。（2）

Price (Japanese yen)



① 辨識港元升值還是貶值。留意：如果這部分錯誤，之後的所有答案都會錯誤！

② 指出匯率改變如何影響出口價格（以外幣計算）。

③ 指出需求是彈性還是低彈性。

④ 比較 $\% \Delta P$ 和 $\% \Delta Q$ 。

⑤ 在圖中標示「得益」及「損失」。

試題剖析站

典型

下表列出某國的國際收支的資料。

項目	百萬元
貨物差額	1,000
服務差額	-600
海外要素收入淨值	-200
經常轉移淨值	60
儲備資產增加	150

- (a) 求經常帳差額。經常帳有盈餘還是赤字？
- (b) 該國 GNP 是否高於 GDP？
- (c) 求國際收支差額。國際收支有盈餘還是赤字？

修改自香港中學文憑 2015 年 Q.44

答題步驟：

- (a) 經常帳差額 = 貨物差額 + 服務差額 + 海外要素收入淨值 + 經常轉移淨值
- = _____
- 經常帳有盈餘。

- (b) 否，GNP 低於 GDP，因為海外要素收入淨值是 _____。

- (c) 國際收支盈餘是 150 百萬元，因為儲備資產 _____ 150 百萬元。

備註：

- (c) 題的難點是在國際收支平衡表中，儲備資產增加 150 百萬元的表達方式如下：

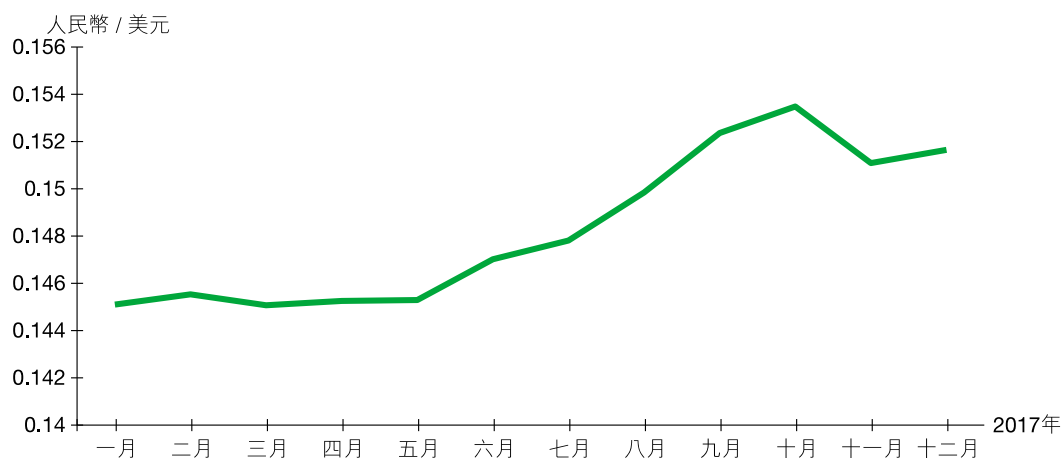
	差額 (百萬元)
儲備資產 (變動淨值)	-150

匯率與本地旅遊業

相關概念：匯率、國際收支平衡表

細閱以下資料，然後回答問題。

資料 A 人民幣兌美元匯率



資料來源：中國人民銀行，2018 年。下載自

<http://www.pbc.gov.cn/diaochaotongjisi/116219/116319/3245697/3245856/index.html>

資料 B 節錄自某報章報道

本地 每天日報 2018年3月2日

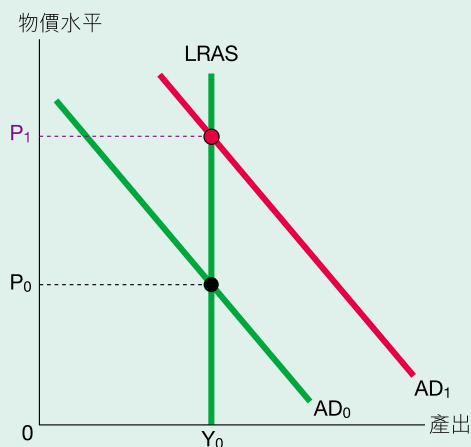
中國內地旅客支出上升

【本報專訊】由於人民幣升值，與去年同期比較，一月份訪港的中國內地旅客的平均支出上升。若人民幣持續升值，與旅客相關行業的總銷售收入預期會繼續上升。

資料來源：綜合各大報章報道。

- (a) 2017 年港元兌人民幣匯率如何改變？試簡單解釋。(2 分) ★★解釋
- (b) 假設該時期香港的物價維持不變。資料 A 描述的變動是否中國內地旅客的總支出（以港元計算）上升的一個可能原因？以圖輔助，加以解釋。(7 分) ★★解釋
- (c) 中國內地旅客的總支出（以人民幣計算）是否同樣上升？毋須繪圖，加以解釋。(3 分) ★★解釋
- (d) 資料 B 描述的旅客支出上升會否增加該期間的有形貿易差額及無形貿易差額？試加解釋。(3 分) ★★解釋

參考下圖。



當總需求由 AD_0 上升至 AD_1 ，以下哪項會改變？

- A. 名義產出
- B. 潛在產出
- C. 實質產出
- D. 以上皆不正確

修改自香港中學文憑 2015 年 Q.37

名義產出、實質產出及潛在產出

- 實質產出 = 產出的數量
_____ 軸量度實質產出。
- 潛在產出 = 充分就業時的實質產出
潛在產出亦是長期均衡產出
- 名義產出 = _____ 產出 \times 物價水平

為何選項 B 及 C 不正確？

即使 AD 改變，潛在產出或長期均衡實質產出亦會 _____ 在 Y_0 不變。

為何選項 A 正確？

- 名義產出 = 物價水平 \times _____ 產出
- 名義產出 _____
 \therefore 物價水平上升，而實質產出固定在 Y_0 不變。

試題剖析站

典型

有政客建議政府向每名市民派發 \$10,000 現金。

以圖輔助，解釋長期而言，派發現金會如何影響該經濟的物價和產出水平。

(8 分)

修改自香港中學文憑 2012 年 Q.10(c)

題解：

利用以下的流程圖分析派發現金的影響，並按步驟在適當的方格內加上✓。

① **AD** 或 **LRAS** 會否改變？還是兩者皆變？若會，原因為何？

☐ ΔAD 因為……

☐ Δ 消費

☐ Δ 投資

☐ Δ 政府支出需求

☐ Δ 淨出口需求

☐ $\Delta LRAS$ 因為……

☐ Δ 勞力供應或生產力

☐ Δ 其他資源：資本、天然資源等

☐ Δ 技術

② 根據 **AD** 或 **LRAS** 改變，找出 ΔP 及 ΔY 。

☐ $AD \downarrow \Rightarrow P \downarrow$ 及 \bar{Y}

☐ $AD \uparrow \Rightarrow P \uparrow$ 及 \bar{Y}

☐ $LRAS \uparrow \Rightarrow P \downarrow$ 及 $Y \uparrow$

☐ $LRAS \downarrow \Rightarrow P \uparrow$ 及 $Y \downarrow$

答題步驟：

— 派發現金 _____ 人們的可用收入及消費。

— 總需求 _____。

— 物價水平 _____。

— 總產出 _____。

— 右圖應該包括：

AD 曲線向 _____ 移

垂直的 LRAS 曲線

物價水平 _____，總產出 _____

(2)

(1)

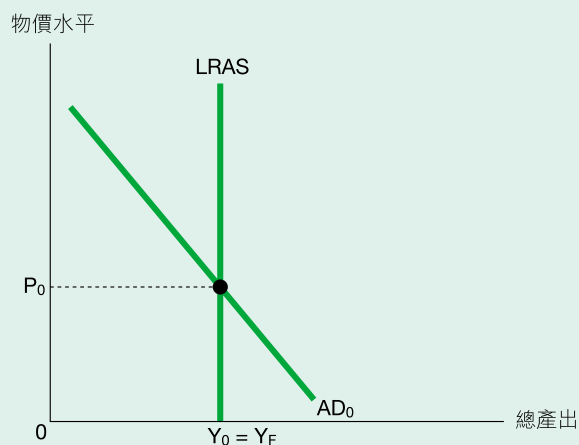
(1)

(1)

(1)

(1)

(1)



AD 及 LRAS 同時上升對物價水平及總產出的長期影響

按照以下步驟在右圖顯示 AD 及 LRAS 同時上升的影響。

- ① 分別以「總產出」及「物價水平」標示 x、y 軸。
- ② 畫出 AD 曲線及 LRAS 曲線，並加標示。
- ③ 標出原長期均衡：標示原均衡點、物價及產出水平。
- ④ 畫出新的 AD 曲線及 LRAS 曲線。
- ⑤ 標出新長期均衡：標示新均衡點、物價及產出水平。



DRQ 研習室

文字 圖像

廣深港高速鐵路（香港段）

相關概念：生產要素、供求理論、AS-AD 模型

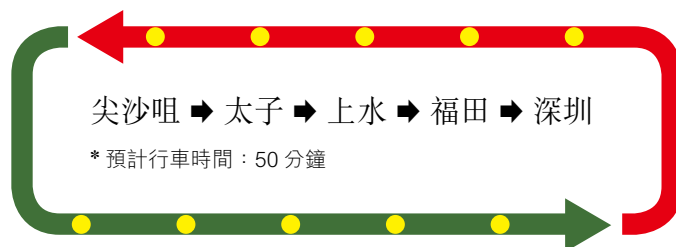
細閱以下資料，然後回答問題。

資料 A 高速鐵路基本資料

鐵路項目最新估算（由香港政府承擔）	844.2 億港元
預計行車時間	香港至福田：14 分鐘 香港至深圳北：23 分鐘
建造方法／設備	明挖隨填、鑽爆方法、隧道鑽挖機

資料來源：港鐵有限公司，2018 年。下載自 <http://www.mtr.com.hk/ch/customer/main/index.html>

資料 B 香港至深圳直通過境巴士路線



- (a) 參考資料 A。解釋在興建高速鐵路的過程中，隧道鑽挖機屬哪種生產要素。 (2 分) ★★ 解釋
- (b) 毋須運用圖表，解釋為甚麼高速鐵路通車後，資料 B 的直通過境巴士的總收入會下降。 (4 分) ★★ 解釋
- (c) 以一總供需圖輔助，解釋高速鐵路在完工後，會如何影響香港的長期產出及物價水平。 (6 分) ★★ 解釋

「明日大嶼願景」涉及 1,700 公頃土地的大型填海項目。以下哪項關於該項目的陳述是正確的？

- (1) 填海期間的實際產出會上升。
- (2) 填海期間的物價水平會下降。
- (3) 填海完成後的潛在產出會上升。
- (4) 填海完成後的物價水平會下降。

- A. 只有 (1)、(2)、(3)
- B. 只有 (1)、(2)、(4)
- C. 只有 (1)、(3)、(4)
- D. 只有 (2)、(3)、(4)

修改自香港中學文憑 2016 年 Q.27

填海期間

填海會增加政府在物品和服務上的支出。總需求會上升，使物價水平及總產出都上升。

- $G \uparrow \rightarrow AD \uparrow \rightarrow P \uparrow + Y \uparrow$

因此，選項 (1) 正確，而選項 (2) 不正確。

填海完成後

假設政府支出及總需求下降至原來水平。

填海完成後，潛在產出會上升。這會增加長期總供應，物價水平下降，而總產出上升。

- $LRAS \uparrow \rightarrow P \downarrow + Y \uparrow$

因此，選項 (3) 及 (4) 都正確。

另一解釋

如果新土地能提升商業前景，投資及總需求會上升。因此，填海完成後，總需求可能會和長期總供應一同上升。

- $AD \uparrow \rightarrow P \uparrow + Y \uparrow$
 - $LRAS \uparrow \rightarrow P \downarrow + Y \uparrow$
- } ΔP (不確定)

由於物價水平不一定上升，選項 (4) 並不正確。

一開放經濟原先在貿易上平衡。如果廠商的投資支出上升，政府的財政結餘會 _____，而 _____ 會出現。

- A. 減少……貿易赤字
- B. 減少……貿易盈餘
- C. 增加……貿易赤字
- D. 增加……貿易盈餘

修改自香港中學文憑 2012 年 Q.31

回想以下各項：

- 財政結餘 (或預算結餘) = $T - G$
- 貿易差額 (淨出口) = $X - M$
- $Y \uparrow \rightarrow T \uparrow$ (G 不受影響)
- $Y \uparrow \rightarrow M \uparrow$ (X 不受影響)

ΔI 對 Y 的影響

$I \uparrow \rightarrow AD \uparrow \rightarrow Y$ _____

對財政結餘的影響

Y _____ $\rightarrow T \uparrow \rightarrow (T - G)$ _____

財政結餘 _____。

對貿易差額的影響

貿易差額 = $X - M$

Y _____ $\rightarrow M \uparrow \rightarrow (X - M)$ _____

貿易差額減少，出現 _____。

徵收美國產品的報復性關稅

相關概念：需求與供應、價格功能、AS-AD 模型

細閱以下資料，然後回答問題。

資料 A 節錄自某報章報道

國際 每天日報 2018年4月3日

中國內地徵收報復性關稅

【本報專訊】中國內地政府回應特朗普的針對性保護主義措施，向 128 項美國進口產品徵收報復性關稅，當中包括水果和豬肉。由於中國內地是全球最大的豬肉製品進口國，徵收關稅預計會嚴重影響美國豬肉製品的生產商。

資料來源：綜合各大報章報道。

資料 B 中國內地某豬肉香腸廠的管理層會議



- (a) 資料 A 的新聞公布後，數家中國內地的豬肉製品商的股票價格上升。

★解釋

毋須運用圖表，解釋為何這些豬肉製品商的股票價格會上升。

(4 分)

- (b) 參考資料 A，毋須運用圖表，解釋徵收關稅在短期對美國總產出及物價水平的影響。

(4 分)

★解釋

- (c) 解釋資料 B 展示的一項價格功能。

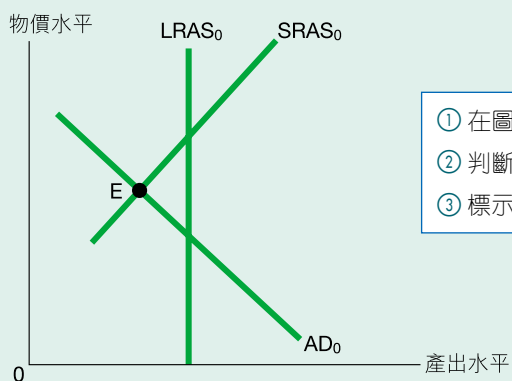
(2 分)

★解釋

試題剖析站

典型

下圖的 E 點是某經濟最初的短期均衡。



- ① 在圖中標示 Y_F 。
- ② 判斷 AD 還是 SRAS 會改變。
- ③ 標示 Y_0 及 Y_1 以顯示 Y 的改變。

(a) 以上圖輔助，解釋調低薪俸稅如何將產出水平提升至 Y_F 。(5 分)

(b) 毋須圖表，解釋在長期，市場力量如何將產出水平提升至 Y_F 。(4 分)

修改自香港中學文憑 2015 年 Q.12(b)

答題步驟：

(a) _____ 上升。

私人 _____ 上升。

_____ 上升。

因此，產出會回升至 Y_F 。

(b) 經濟出現 _____ 差距。

生產要素價格會 _____。

短期總供應會 _____，

在長期，產出返回 Y_F 。

(1)

(1)

(1)

(2)

描述薪俸稅的影響。

(1)

(1)

(1)

(1)

描述市場調整機制如何使經濟返回長期均衡。

試題剖析站

典型

甲國和乙國的資源數量相同。甲國用 25% 資源生產汽車，75% 資源則用來生產船隻。乙國用 40% 資源生產汽車，60% 資源則用來生產船隻。下表顯示兩國的產出：

	汽車 (單位)		船隻 (單位)
甲國	50	和	150
乙國	120	和	300

(a) 解釋乙國生產船隻是否擁有絕對優勢。

(b) 解釋乙國生產船隻是否擁有比較優勢。

(6 分)

修改自香港中學文憑練習卷 2012 年 Q.9

① 要比較由相同資源所生產的產出數量，才可找出絕對優勢或比較優勢。

答題步驟：

兩國運用所有的資源生產的總產出如下：

	汽車 (單位)		船隻 (單位)
甲國	_____	或	$\frac{150}{75\%} = 200$
乙國	$\frac{120}{40\%} = 300$	或	_____

② 分別計算每個國家運用所有資源能夠生產的汽車或船隻的數量。

(2)

(a) 使用同等數量的資源時，_____ 國的產量高於 _____ 國，所以 _____ 國生產船隻擁有絕對優勢。

(1)

③ 重溫絕對優勢的定義

(b) 甲國：生產 1 船隻的機會成本 = $\frac{200}{150} = \frac{4}{3}$ 汽車

(1)

乙國：生產 1 船隻的機會成本 = _____ = _____ 汽車

(1)

_____ 國生產船隻擁有比較優勢，因為它生產船隻的機會成本較 _____ 國 _____。

(1)

④ 重溫比較優勢的定義

下表顯示甲國在國際貿易前後的資料：

	玩具 (單位)		稻米 (單位)
國際貿易前的總產量	30	和	45
完全專門化生產和國際貿易後的總產量	0	和	105
國際貿易後的總消費	45	和	60

- 甲國生產稻米是否有絕對優勢？加以解釋。(2 分)
- 甲國生產哪種物品擁有比較優勢？加以解釋。(2 分)
- 計算甲國生產 1 單位出口物品的機會成本。(2 分)
- 計算甲國的貿易比率。(2 分)
- 計算甲國貿易的總得益。(2 分)
- 計算甲國專門化生產及貿易的總得益。(2 分)

答題步驟：

- _____。(1)

因為欠缺資料計算甲國的 _____ (即每單位投入的產出)，故無法將甲國的 _____ 和其他國家比較。(1)

① 重溫絕對優勢的定義

- _____，因為甲國在貿易後專門生產 _____。(2)

- 甲國放棄 _____ 玩具可多生產 _____ 稻米，(1)

所以生產 1 單位出口物品 (稻米) 的機會成本 = _____ 玩具。(1)

- 1 稻米 = _____ 玩具(1)

貿易比率：1 稻米 = 1 玩具(1)

② 從上表找出出口和進口的數量

- 甲國出口 45 單位稻米。

貿易的總得益 = 出口數量 × (貿易價格比率 - 生產的機會成本)
= $45 \times (\text{_____} - \text{_____}) = \text{_____}$ 玩具(2)

- 貿易前的總產量 (= 總消費)：30 玩具 + 45 稻米

貿易後的總消費：_____ 玩具 + 60 稻米

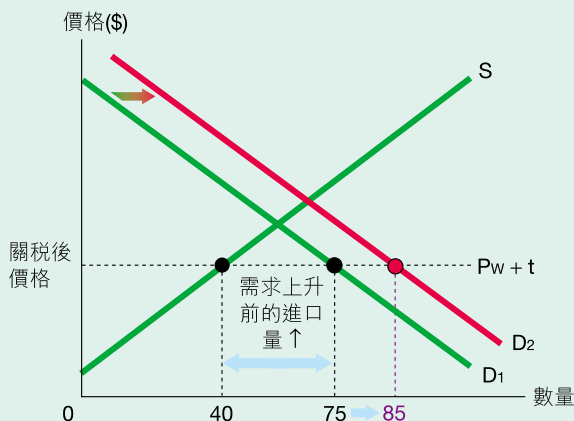
∴ 專門化生產及貿易的總得益：_____ 玩具 + _____ 稻米(2)

試題剖析站

典型

以下兩圖分別顯示在實施關稅及配額下，需求上升對一小型開放經濟的影響。

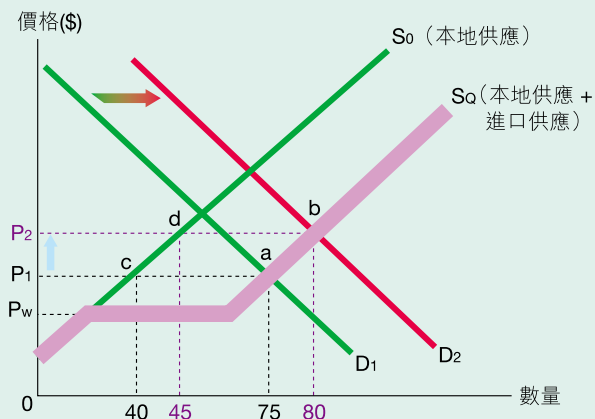
關稅：在從量關稅下，需求上升的影響



- 價格維持在 _____ 不變。
- 本地供應量維持不變，仍是 _____ 單位。
- 本地需求量／交易量增加至 _____ 單位。
- 進口量增加至 _____ 單位。

配額：在有效配額下，需求上升的影響

實施配額前，本地價格等於國際價格 (P_w)。當配額設為 35 單位時，供應變為 S_Q 。



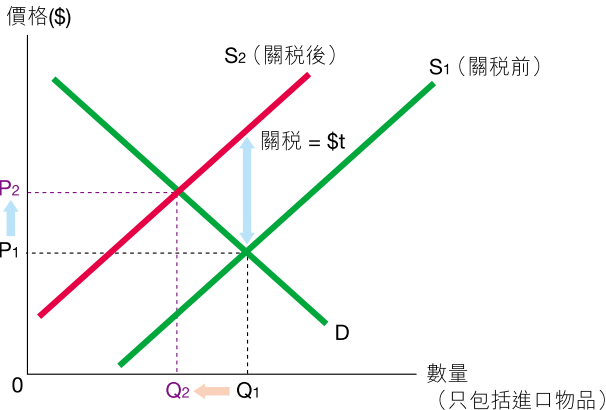
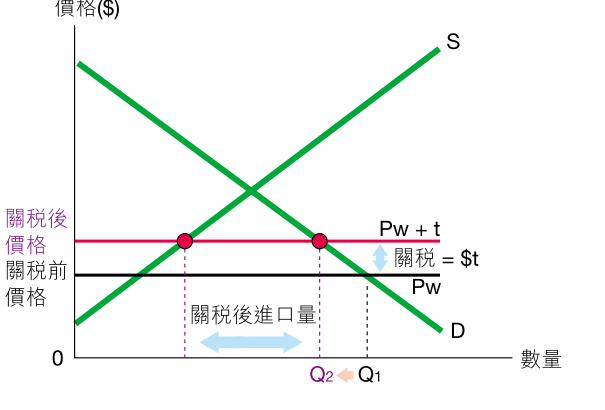
需求增加的影響 (由 D_1 至 D_2)

	$D = D_1$	$D = D_2$
均衡	a 點	_____ 點
本地價格 ↑	P_1	_____
本地交易量／需求量 ↑	75 單位	_____ 單位
• 本地供應量 ↑	40 單位	_____ 單位
• 進口量 ↑	35 單位 (= ac)	_____ 單位 (= bd)

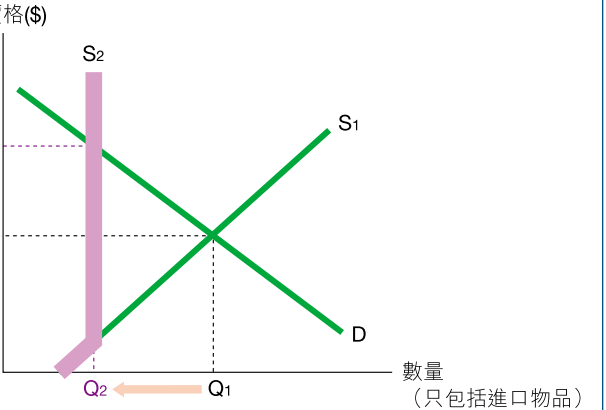
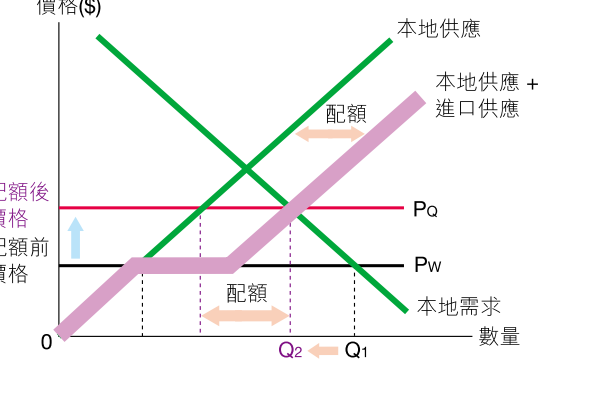
本地交易量 = 本地供應量 + 進口量

由此可見，若政府計劃限制進口的數量，配額會較關稅有效。

比較從量關稅的影響

在國際市場上不是受價者	在國際市場上是受價者
<p>從量關稅的影響類似 4 下冊討論的從量稅。假設市場是完全競爭，需求是向右下傾斜的，而供應則向右上傾斜。從量關稅 (t) 會減少進口物品的供應，令價格上升，交易量下降。</p> 	<p>當該經濟在國際市場上是受價者，本地價格會等於 _____ 價格 (P_w)。從量關稅 (t) 會令本地價格 _____ (由 _____ 至 _____)，而交易量 _____。</p> 

比較有效進口配額的影響

在國際市場上不是受價者	在國際市場上是受價者
<p>有效進口配額會減少進口物品的供應，令價格上升，交易量下降。</p> 	<p>有效配額會令本地價格 _____ (由 _____ 至 _____)，而交易量 _____。</p> 

總結：從量進口關稅及有效進口配額的影響

下表總結從量進口關稅在不同經濟的影響。

	國際市場上不是受價者	國際市場上是受價者
價格	$\uparrow < \$t$	
交易量	\downarrow	
進口量	\downarrow	

下表總結有效進口配額在不同經濟的影響。

	國際市場上不是受價者	在國際市場上是受價者
價格	\uparrow	
交易量	\downarrow	
進口量	\downarrow	

DRQ 研習室 文字

保護主義

相關概念： 關稅，AS-AD 模型

細閱下列資料，然後回答問題。

資料 A 節錄自某報章報道

【本報專訊】在 2018 年 3 月，美國向入口鋼及鋁徵收關稅，稅率分別為 25% 及 10%。同年 5 月，美國再向本來獲得豁免的地區，包括歐盟、加拿大和墨西哥徵收該等稅項。加拿大和歐盟均表示會向美國採取行動，以反制美國對鋼及鋁徵收關稅，全球貿易戰如箭在弦。

資料來源：綜合各大報章報道。

資料 B 節錄自某報章報道

【本報專訊】美國鋼鐵業支持政府向鋼徵收關稅。有鋼鐵業勞工團體的會長說：「我們認為鋼鐵業工人將受惠於這稅項。」

政府期望是次徵稅能令美國鋼鐵業的產出，由現時產能的 75% 提升至 80%。

資料來源：綜合各大報章報道。

資料 C 節錄自某報章報道

【本報專訊】有媒體指出，鋼和鋁的關稅增加了鋼製生產設備及基礎建設的成本，並令部分生產商放棄或延後擴充業務的計劃。

資料來源：綜合各大報章報道。

- (a) 假設有一小型開放經濟向入口鋼徵收關稅，以圖輔助，顯示該關稅對下列各項的影響：
- (i) 鋼的本地價格
 - (ii) 鋼的國際價格
 - (iii) 鋼的入口量 (3 分)
- (b) 美國向入口鋼徵收關稅，這對國際價格的影響會否與 (a)(ii) 的結果相同？試加以解釋。(3 分)
- (c) 參考資料 B 及 C。
- 以一總供需圖輔助，解釋在沒有爆發貿易戰的情況下，對入口鋼徵收關稅會如何改變美國在短期的物價水平。(5 分)

★★ 解釋

★★ 解釋

同學須以短文形式回答 (d) 部。評分準則包括運用資料及經濟理論，內容切題，鋪排合乎邏輯，以及表達清晰。

(d) 就上述資料及就你所知，討論美國的新關稅安排對下列各項的影響：

- 美國的總產出及就業水平
- 全球經濟增長

★★★ 討論

(12 分)

短文式試題

為每個論點開新段落。

透過參考**步驟**，學習組織你的答案：

對總產出及就業水平的擴張性影響

① _____

② 及 ③ _____

對總產出及就業水平的緊縮性影響

i 然而，① _____

② 及 ③ _____

對全球經濟增長的影響

i _____ ① _____

② 及 ③ _____

步驟

i 標示語

ii 寫出你的立場

① 中心句

② 引用資料

③ 闡述

① ► ② ► ③

* 在步驟2及3，你可以運用資料或你的知識來解釋。

i 標示語

► ① ► ② ► ③

* 在步驟2及3，你可以運用資料或你的知識來解釋。

i 標示語

► ① ► ② ► ③

* 在步驟2及3，你可以運用資料或你的知識來解釋。