

# 第14章

## 貿易障礙及香港的貿易概況



# 貿易障礙及香港的貿易概況

## 14.1 貿易障礙

## 14.2 關稅及配額對小型開放經濟的影響

## 14.3 香港的貿易概況



## 14.1 貿易障礙

- 貿易障礙是指各種限制貿易的措施，當中主要針對進口。
- 雖然自由貿易帶來不少好處，但貿易限制在現實世界中是十分常見的。



## 一、貿易障礙的成因

- 保護主義是指一個國家可以從貿易限制中得益的經濟主張。
- 貿易限制的主要原因包括：

**國家安全**                      一個國家必須發展農業、鋼鐵及軍備業等關乎國家命脈的行業。

工業多元化	如果一個經濟專門生產少數產品，經濟表現波動會較大，透過限制進口來促進工業多元化，可以令經濟表現更穩定。
保護初生行業	由於任何行業在發展初期，都會因規模細小而平均成本較高，所以政府有需要津貼初生行業，幫助壯大規模至足以與進口產品競爭。

表14.1 貿易限制的原因

# 一、貿易障礙的成因

既得利益團體 施加壓力	由於限制進口對本地生產者帶來龐大的得益，所以他們會花費大量資源要求實施貿易障礙。
----------------	--

稅收	關稅是一些政府的主要收入來源。
----	-----------------

表14.1 貿易限制的原因





## 二、貿易障礙的種類

□ 貿易障礙是指各種限制貿易的措施，當中主要針對進口。常見的貿易障礙包括：

進口關稅	進口關稅是向有關的進口產品徵收稅金。進口附加稅是對進口產品徵收的額外稅金，目的是進一步減少進口數量。
進口配額	進口配額是有關產品的進口數量上限。
補貼進口競爭行業	與進口產品競爭，爭奪本地市場的行業稱為進口競爭行業。政府給予進口競爭行業補貼，令這些行業的產品價格下降及銷量增加，進口量得以減少。

表14.2 各類貿易障礙

## 二、貿易障礙的種類

### 外匯管制

由於進口產品需要支付外幣，所以政府可以控制外幣的匯率及供應量來減少進口數量。

### 禁運

一個國家可對另一國家實施禁運。

- 全面禁運是指全面禁止與某國貿易。
- 局部禁運是指只禁止部分貨品如軍火及高科技產品的貿易。

表14.2 各類貿易障礙



## 快問快答

1. 下列哪項是保護主義的措施？

- (1) 歐盟補貼出口的農產品。
- (2) 日本對進口的農產品徵收關稅。
- (3) 香港特區政府限制旅客攜帶奶粉出境的數量。

- A. 只有(1)、(2)
- B. 只有(1)、(3)
- C. 只有(2)、(3)
- D. (1)、(2)、(3)





## 14.2 關稅及配額對小型開放經濟的影響

- 一個小型經濟在國際市場上是受價者，它的貿易數量不足以影響國際價格。
- 本節會探討關稅及配額對一個小型經濟（甲國）的影響。



### 一、自由貿易模型

#### 1. 貿易前的均衡

參看圖14.2，進行貿易前，衣服的本地價格是 $P_1$ ，而生產及消費量都是60單位。

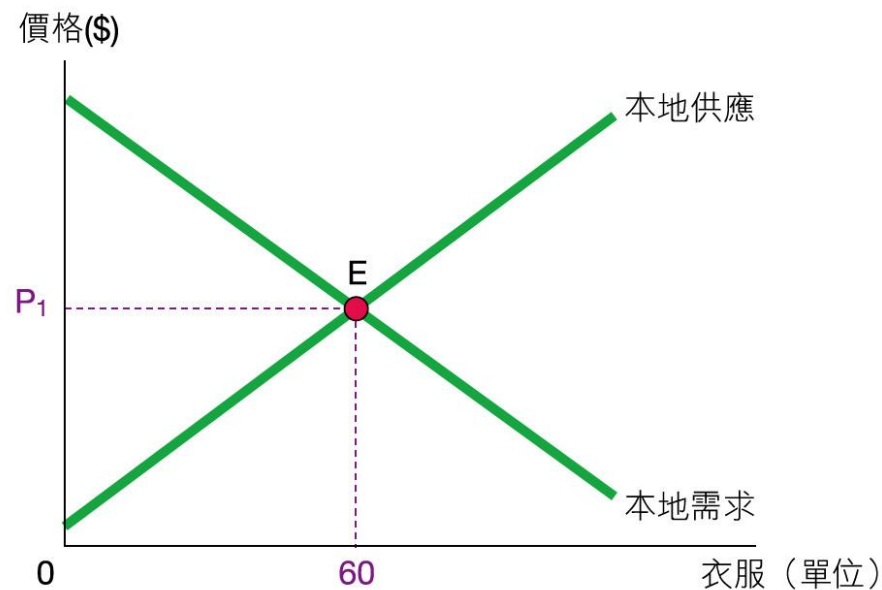


圖 14.2 貿易前的均衡

# 一、自由貿易模型

## 2. 貿易後的本地價格及貿易模式

- 現在，甲國開始對外貿易。由於甲國是受價者，貿易後國際價格 ( $P_W$ ) 成為本地價格 ( $P_D$ )。甲國會進口或出口衣服，視乎國際價格是多少。



## 2. 貿易後的本地價格及貿易模式

原因如下：

- 若國際價格低於貿易前的本地價格（ $P_1$ ），本地消費者可以購買價格較低的外國衣服，所以本地價格會由 $P_1$ 下降至 $P_w$ 。
- 若國際價格高於貿易前的本地價格（ $P_1$ ），本地生產者可以較高價格（ $P_w$ ）把衣服賣給外國，所以本地價格會由 $P_1$ 上升至 $P_w$ 。



## 2. 貿易後的本地價格及貿易模式

貿易前	貿易後	貿易模式
1. 若 $P_D > P_W$ . . . . .	$P_D$ 下降至 $P_W$	進口衣服
2. 若 $P_D < P_W$ . . . . .	$P_D$ 上升至 $P_W$	出口衣服

表14.3 貿易模式的決定





## 快問快答

2. 假設乙國是個小型的封閉經濟。在進行貿易前，每單位衣服的本地價格及國際價格分別是15美元及10美元。

(a) 若乙國容許自由貿易，它會（進口 / 出口）\* 衣服。

(b) 進行貿易後，本地價格是10美元。

\*在正確答案下畫底線。



## 一、自由貿易模型

### 3. 進口對價格及數量的影響

- 假設進行貿易前的本地價格高於國際價格。
- 圖14.3顯示進口衣服對價格及數量的影響如下：



### 3. 進口對價格及數量的影響

- 容許進行貿易後，本地價格下降至國際價格。
- 價格下降令本地生產者的供應量由60下降至20。
- 本地消費者的需求量由60增加至100，而兩者的差額（ $100 - 20 = 80$ ）是進口量。



### 3. 進口對價格及數量的影響

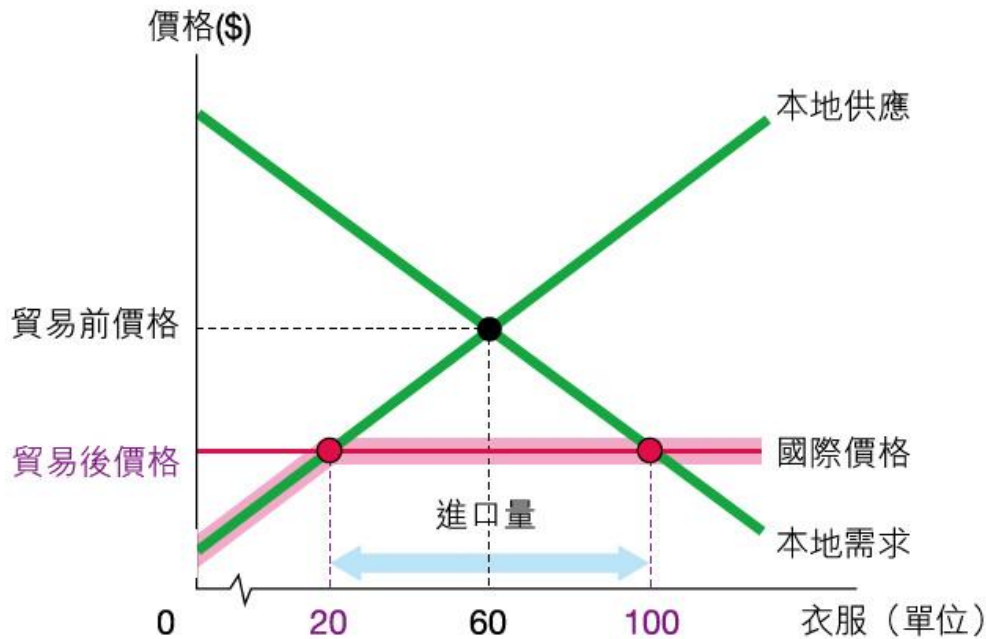


圖 14.3 進口對價格及數量的影響

#### 進口對價格及數量的影響

- 本地價格 ↓
- 本地供應量 ↓
- 本地需求量 ↑
- 進口量 = 本地需求量 - 本地供應量

### 3. 進口對價格及數量的影響

- 由於甲國是受價者，可按國際價格進口任何數量的衣服。
- 所以圖14.3中的粉紅線是進行貿易後的衣服供應曲線（包括本地及進口供應）。





## 複習題

1. 假設進行貿易前的本地價格低於國際價格。
  - (a) 容許進行貿易後，本地價格、本地供應量及本地需求量會如何改變？
  - (b) 容許進行貿易後，本地會出口還是進口？如何計算出口量或進口量？
- (a) 本地價格上升至國際價格。本地供應量會上升。本地需求量會下降。
  - (b) 本地會出口。出口量相等於本地供應量減本地需求量。



## 二、關稅對價格及數量的影響

- 假設甲國對進口的衣服徵收從量關稅 $\$t$ 。
- 由於小型經濟是受價者，所以實施關稅或配額都不會影響國際價格。

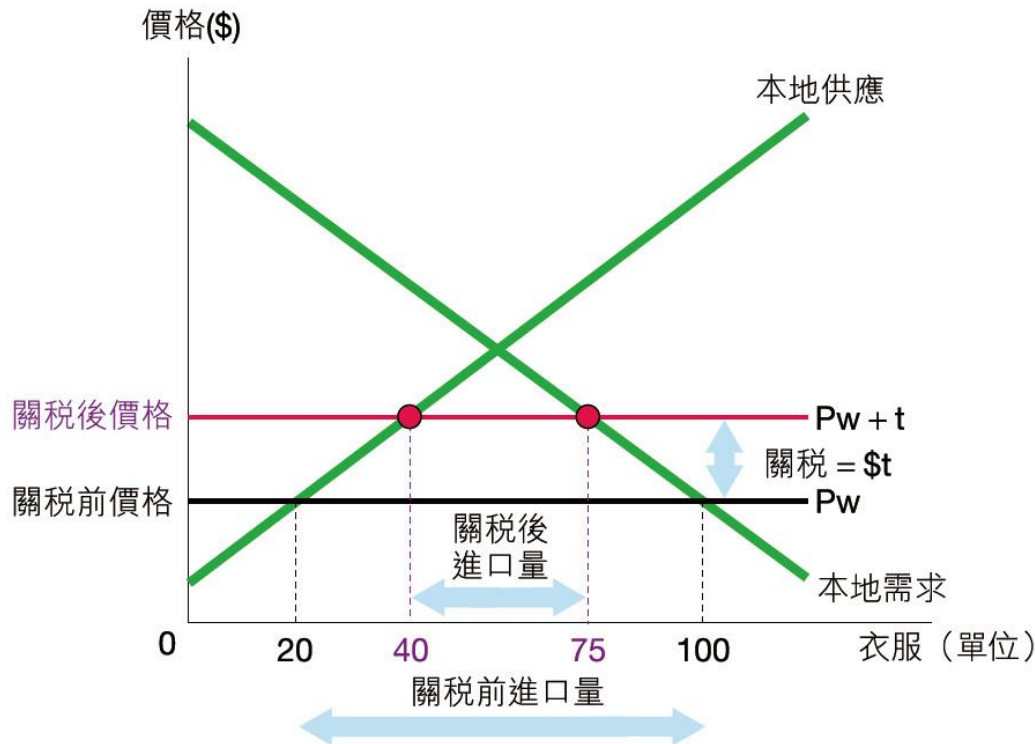


## 二、關稅對價格及數量的影響

- 參看圖14.4，徵收關稅 $t$ 後，本地價格會上升 $t$ （即由 $P_W$ 上升至 $P_W + t$ ）。
- 價格上升令本地生產者的供應量由20增加至40，而本地消費者的需求量由100減少至75。
- 兩者的差額（ $75 - 40 = 35$ ）是進口量。



## 二、關稅對價格及數量的影響



從量關稅對價格及數量的影響

- 本地價格 ↑
- 本地供應量 ↑
- 本地需求量 ↓
- 進口量 ↓

圖 14.4 從量關稅對價格及數量的影響



## 二、關稅對價格及數量的影響

- 由於甲國是個受價者，它可按國際價格進口任何數量的衣服。
- 所以圖14.5中的粉紅線是徵收關稅後的衣服供應曲線（包括本地及進口供應）。





## 二、關稅對價格及數量的影響

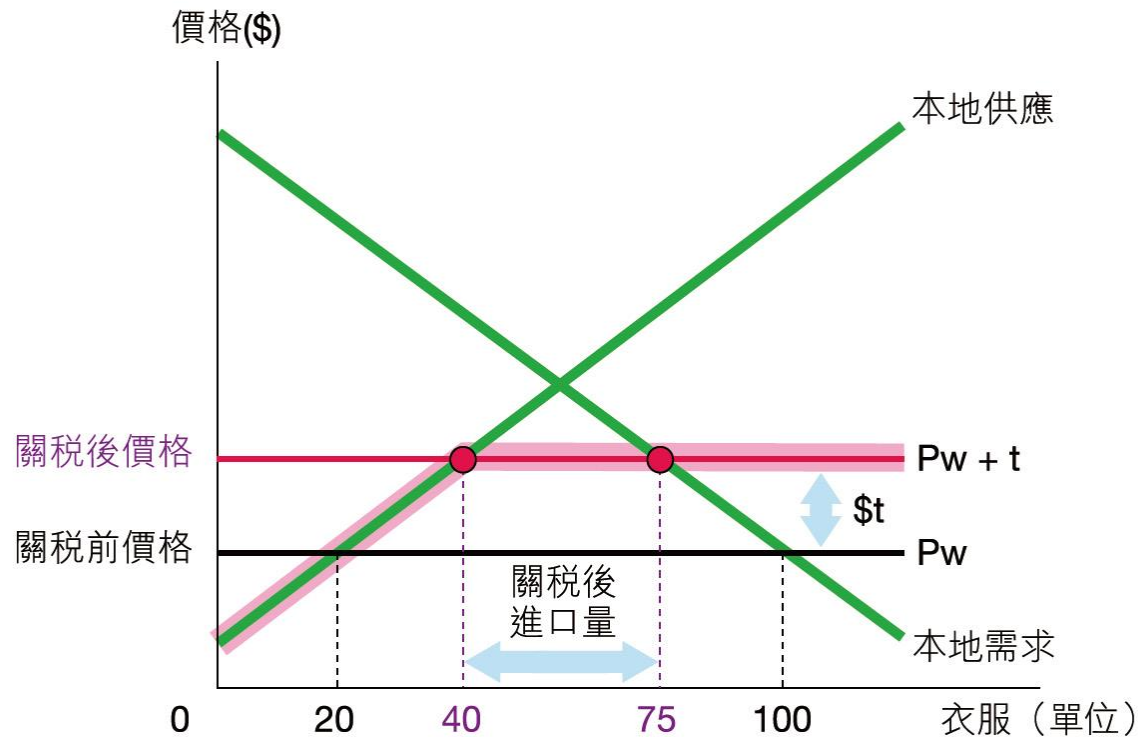


圖 14.5 徵收關稅後的供應曲線



## 快問快答

3. 假設一個小國對進口的物品X開徵從量關稅。指出以下關於關稅後物品X的本地市場的陳述是否正確。

陳述	是 / 否
(a) 市場價格的上升幅度等於從量關稅。	是
(b) 物品X的國際價格會上升。	否
(c) 交易量會下降。	是
(d) 需求量會下降。	是
(e) 本地生產者的供應量會下降。	否
(f) 政府會因關稅增加而得益。	是

### 三、配額對價格及數量的影響

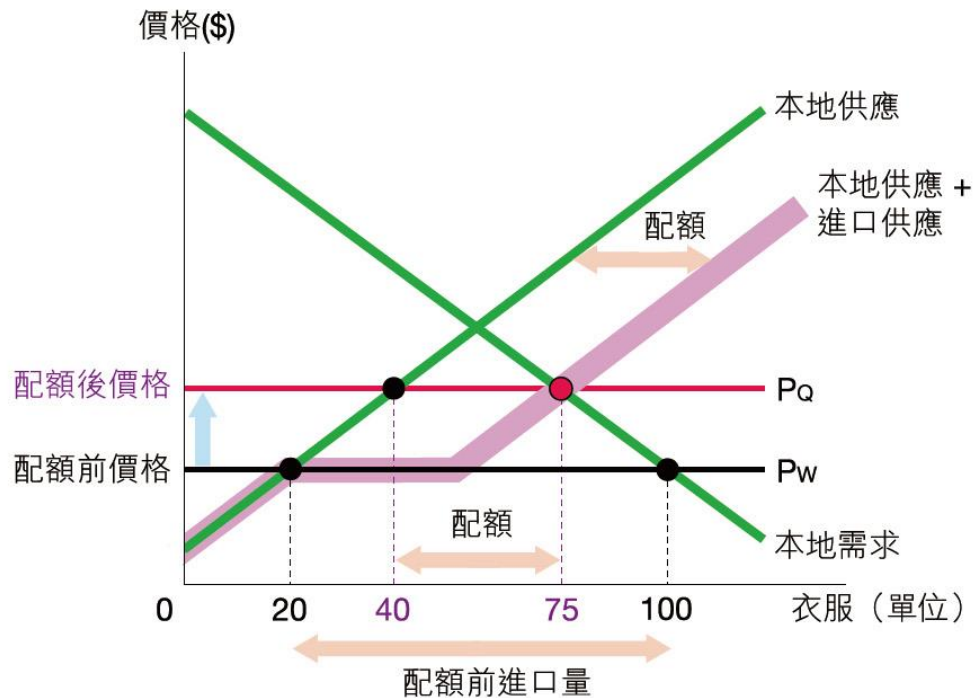
- 假設現在甲國改以進口配額35單位來取代關稅，並把配額免費分配給特定的本地生產者。
- 配額擁有人可使用配額，按照國際價格( $P_w$ ) 進口衣服。



### 三、配額對價格及數量的影響

- 當本地價格高於 $P_w$ 時，他們會用盡全部配額進口衣服。
- 而當本地價格較 $P_w$ 低時，他們不會使用配額來進口較昂貴的外國衣服。
- 因此，供應曲線高於 $P_w$ 的部分會右移配額的數量（即35單位）。

## 三、配額對價格及數量的影響



### 配額對價格及數量的影響

- 本地價格 ↑
- 本地供應量 ↑
- 本地需求量 ↓
- 進口量 ↓

圖 14.6 配額對價格及數量的影響





### 三、配額對價格及數量的影響

- 參看圖14.6，紫線是配額後的衣服供應曲線（包括本地供應及進口供應）。
- 紅點是新的均衡，本地價格會上升至 $P_Q$ 。



### 三、配額對價格及數量的影響

- 本地價格上升令本地生產者的供應量由20增加至40，本地消費者的需求量由100減少至75，而兩者的差額（ $75 - 40 = 35$ ）是進口量。




### 三、配額對價格及數量的影響

- 實施配額35單位對價格及數量的影響，與徵收關稅 $\$t$ 完全相同。
- 配額擁有人能夠以 $P_W$ 進口35單位成衣，然後以較高的價格 $P_Q$ 售予消費者。因此， $(P_Q - P_W) \times 35$ 是配額擁有人的收入。



## 四、比較關稅及配額的影響

- 關稅及配額對價格及數量的影響相同：本地價格及本地供應量上升，而本地需求量及進口量則下降。
- 然而，在關稅下，政府會有收入；而在配額下，配額擁有人會有收入。



## 快問快答

4. 假設一個小國對物品X實施進口配額，而政府把配額免費分配給特定的本地生產者。指出以下關於配額後物品X的本地市場的陳述是否正確。

陳述	是 / 否
(a) 市場價格會下降。	否
(b) 物品X的國際價格會上升。	否
(c) 交易量會下降。	是
(d) 需求量會下降。	是





## 快問快答

4. 假設一個小國對物品X 實施進口配額，而政府把配額免費分配給特定的本地生產者。指出以下關於配額後物品X 的本地市場的陳述是否正確。

陳述	是 / 否
(e) 本地生產者的供應量會上升。	是
(f) 配額擁有人會得益。	是



## 14.3 香港的貿易概況

### 熱身題



在香港，以上產品是本地生產還是進口的？

## 一、香港的貿易模式

- 香港的對外貿易包括商品貿易及服務貿易。
- 表14.4及14.5是2011 年香港對外貿易的概況。

本地出口	化學品及化學產品、基本金屬製品，以及電腦、電子及光學產品，佔本地商品出口總值約43.40%。
留用進口	原料及半製成品、消費品及資本貨品，佔留用進口總值約75.54%。
服務貿易	出口總值高於入口總值的服務：運輸、旅遊及金融 入口總值高於出口總值的服務：保險

表14.4 2011年香港的對外貿易概況



## 一、香港的貿易模式

貨值	貿易總額	進口供應地	出口市場	轉口來源地
最高  最低	中國內地 36,986.21億元	中國內地 18,408.62 億元	中國內地 18,577.59億元	中國內地 21,044.17億元
	美國 5,429.64億元	日本 3,116.05億元	美國 3,385.05億元	日本 2,280.70億元
	日本 4,555.75億元	台灣 2,463.46億元	日本 1,439.70億元	台灣 2,186.39億元
	台灣 3,257.32億元	新加坡 2,448.89億元	台灣 808.42億元	韓國 1,258.03億元

表14.5 2013年香港的主要貿易夥伴（按貨值由高至低排列）

資料來源：政府統計處，2013年。下載自<http://www.censtatd.gov.hk/>

## 一、香港的貿易模式

- 根據比較優勢原理，一個國家會出口具比較優勢的貨品，而入口具比較劣勢的貨品。
- 從表14.4可見，香港主要在化學品及化學產品、基本金屬製品，以及電腦、電子及光學產品上擁有比較優勢，而在原料及半製成品、消費品及資本貨品上擁有比較劣勢。



## 二、國際貿易對香港經濟的重要性

### 1. 獲取原料、資本物品及消費品

- 香港是一個細小的外向型經濟，缺乏天然資源及製造業。本地的原料、燃料、機械設備，以及我們日常生活的必需品都是來自進口。
- 香港的貿易數據可反映有關現象。從表14.6可見，香港的貿易赤字高達4,273億元，而留用進口對GDP 比率亦高達53%。



## 1. 獲取原料、資本物品及消費品

	億元	對 <b>GDP</b> 比率
<b>(1) 整體出口貨品</b>	33,373	172%
<b>(2) 整體進口貨品</b>	37,646	194%
<b>(3) 貿易赤字 = (2) - (1)</b>	4,273	22%
<b>(4) 留用進口</b>	10,261	53%
<b>(5) 整體服務輸出</b>	7,061	36%
<b>(6) 整體服務輸入</b>	5,792	30%
<b>(7) 貨品及服務的貿易總值 = (1) + (2) + (5) + (6)</b>	83,871	433%
<b>(8) 服務淨輸出</b>	1,269	7%

表14.6 2011年香港的對外貿易

資料來源：政府統計處，2013年。下載自<http://www.censtatd.gov.hk/>

# 2011年，香港的名義GDP是19,361億元。



## 二、國際貿易對香港經濟的重要性

### 2. 專注發展高增值行業

- 透過貿易，香港可以專注發展金融和貿易等高增值行業。
- 在**2011**年，香港經濟的四大支柱行業（金融服務、旅遊、物流及專業服務）的產值佔**GDP**的**58.5%**，而且接近一半的本地勞動人口從事相關行業。

## 二、國際貿易對香港經濟的重要性


### 3. 國際貿易帶來龐大收入

- 參看表14.6，貨品及服務的貿易總值對GDP比率是433%，反映香港是世界主要的轉口港，與貿易有關的行業為香港帶來龐大的收入。
- 此外，在2011年，香港從服務貿易中賺取的無形淨收益達1,269億元，佔GDP的7%。

## 三、香港面對的貿易障礙

### 1. 全球貿易與世界貿易組織

- 現時全球貿易主要由世界貿易組織（簡稱世貿組織）所制定和執行的國際貿易協議所規範。
- 世貿組織於1995年成立，宗旨是促進自由貿易，香港亦是世貿組織的創會成員。






## 1. 全球貿易與世界貿易組織


□ 世貿組織的主要職能如下：

- 定期進行多邊貿易談判，以消除貿易障礙及歧視措施。
- 對成員國切實執行國際貿易協定。
- 仲裁成員國之間的貿易糾紛。



## 1. 全球貿易與世界貿易組織

- 授權對違反貿易協議的成員國實施貿易制裁。
- 協助發展中及尚待發展的國家融入世界貿易體制。



## 三、香港面對的貿易障礙


### 2. 香港嘗試克服貿易障礙的辦法

- 香港主要透過以下途徑，嘗試克服貿易障礙：
- 奉行自由貿易政策
  - 推廣貿易
  - 參與國際經濟機構及商討貿易協定



## 1. 自由貿易政策

- 香港是世界著名的自由港，沒有關稅、配額及外匯管制。
- 在全球多個城市設有經貿辦事處，以促進雙邊貿易關係。
- 例如，駐日內瓦的經貿辦事處代表香港，以世貿組織成員身分參與世貿活動。



## 2. 推廣貿易

- 政府成立不同機構，來推動及支援貿易發展。
- 發展基礎建設，完善貿易及運輸網絡。



圖 14.8 香港國際機場是世界最先進的機場之一。



### 3. 參與國際經濟機構及商討貿易協定

- 香港加入世貿組織，可免受不公平及歧視措施所損害。
- 香港是亞太經濟合作組織的成員。該組織的目標是促進成員國達致貿易自由。
- 與貿易夥伴達成雙邊貿易安排。



### 3. 參與國際經濟機構及商討貿易協定



圖 14.9 《內地與香港關於建立更緊密經貿關係的安排》(CEPA) 是中國內地與香港簽訂的雙邊經濟貿易協議。

# 第14章完

