

相關課題	4 下冊 第 9 章 需求與供應：市價的改變
相關概念	需求與供應

1. 在超級市場，一罐可樂的價格一般都跟在便利店的有差異。提出**兩個**可能原因，解釋為甚麼存在該價格差異。 (4 分)

---

---

---

---

---

---

---

---

### 劣等答案

便利店的可樂的成本較高。

1

### 摘星提示

學生應該運用影響需求與供應的因素作答。

### 星級答案

- 不同的生產成本（例如租金、電費等） @2
  - 不同的服務（便利店 24 小時開業，超市則不是。） 最高：4
  - 任何其他相關點
- 〔只批閱首兩項〕

相關課題	4 下冊 第 9 章 需求與供應：市價的改變
相關概念	需求與供應

2. 曼谷發生炸彈襲擊，部分旅行社取消前往泰國的旅行團。然而，泰國旅行團的團費仍然大幅下降。以一幅供需圖輔助，解釋上述現象。 (7 分)

---

---

---

---

---

---

---

---

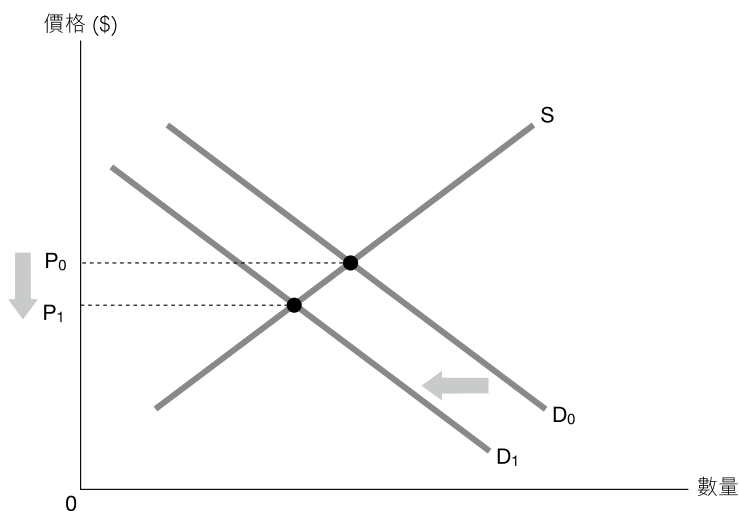
---

---

---

---

### 劣等 答案



#### 答題剖析

未能繪畫需求與供應同時改變的供需圖。

在圖中顯示：

– 價格下降

1

文字解說：

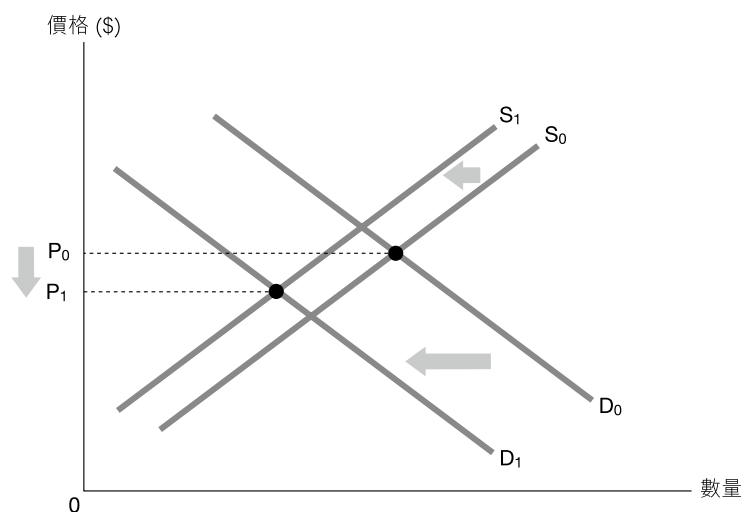
炸彈襲擊會令泰國旅行團的需求下降，導致團費下降。

1

### 摘星 提示

學生必須明白部分旅行社取消旅行團意味旅行團的供應下降。

## 星級答案



在圖中顯示：

- 需求下降 > 供應下降 2
- 價格下降 1

文字解說：

- 炸彈襲擊會令泰國旅行團的需求下降。 1
- 旅行社取消泰國旅行團會令泰國旅行團的供應下降。 1
- 當需求下降的幅度大於供應下降的幅度，團費會下降。 2

相關課題	4 下冊 第 9 章 需求與供應：市價的改變 4 下冊 第 10 章 需求和供應的價格彈性
相關概念	需求與供應、總市場價值

3. 香港的樓價高昂。毋須運用圖表，解釋對私人房屋的需求上升會如何影響土地的總市場價值。 (3 分)

---



---



---



---



---



對私人房屋的需求上升會令土地的總市場價值上升。



## 1 ..... 欠缺解釋



學生應思考對私人房屋的需求上升會如何影響土地需求。



對私人房屋的需求上升會令對土地的需求上升，

因為對土地的需求屬衍生需求／土地是私人房屋的投入。 2

土地的總市場價值會上升。 1

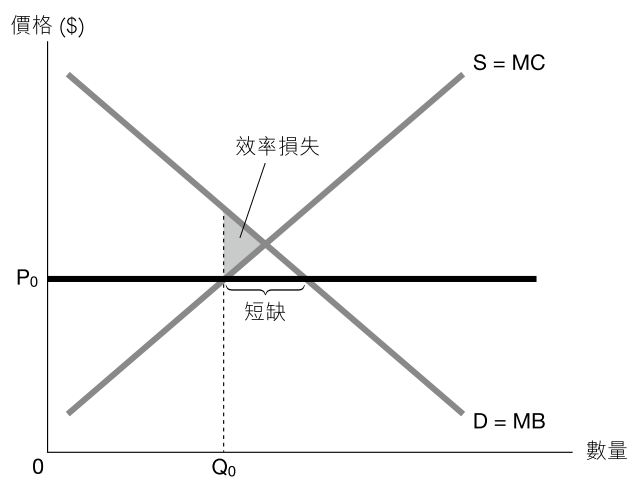
相關課題	4 下冊 第 12 章 市場干預 (I)
相關概念	價格上限、效率

4. 「降低某物品的有效價格上限會令效率損失減少。」你同意嗎？以圖輔助，加以解釋。

(6 分)

[illegible]

## 劣等答案



在圖中顯示：

文字解說：

實施有效價格上限會令邊際利益大於邊際成本，出現效率損失。

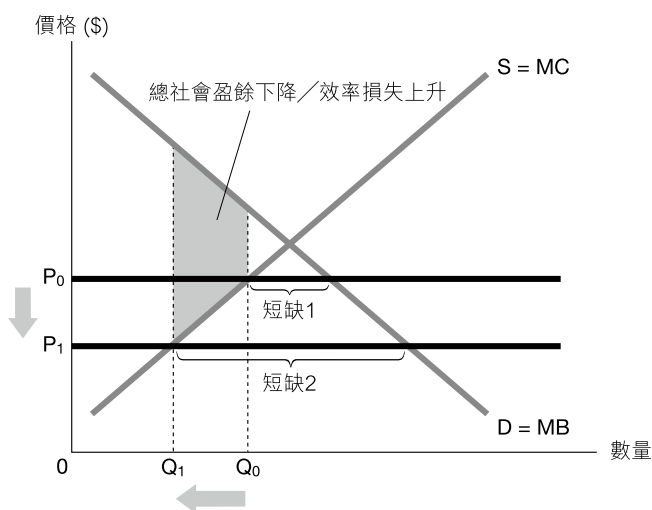
### 答題剖析

只就有效價格上限導致的效率損失作答，忽略了題目問及降低有效價格上限的情況。

0

## 摘星提示

學生應留意題目問及降低有效價格上限而非實施有效價格上限的情況。



在圖中顯示：

- 短缺增加 1
- 交易量下降 1
- 總社會盈餘下降／效率損失上升 1

文字解說：

- 降低有效價格上限會令市價及交易量下降， 1
- 短缺會增加。 1
- 總社會盈餘會下降／效率損失會上升。 1

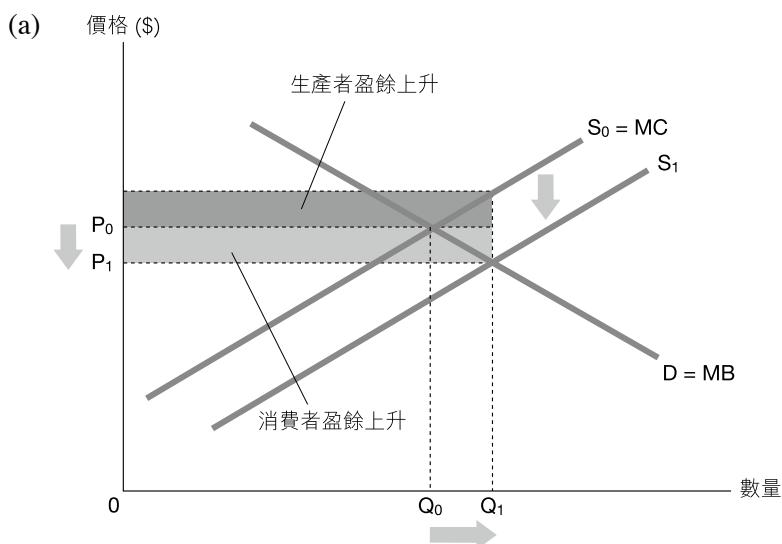
相關課題	4 下冊 第 13 章 市場干預 (II)
相關概念	從量津貼、消費者盈餘、生產者盈餘、效率損失

5. 香港政府為官立學校提供津貼。

- (a) 假設沒有界外影響。以圖輔助，解釋對某物品提供從量津貼會如何影響該物品的消費者盈餘及生產者盈餘。 (7 分)
- (b) 小明說：「在沒有界外影響的情況下，對某物品提供津貼會增加總社會盈餘。」你同意嗎？毋須運用圖表，加以解釋。 (3 分)



## **劣等答案**



在圖中顯示：

- 供應上升
- 價格下降及交易量上升

文字解說：

消費者盈餘及生產者盈餘皆會上升。

- (b) 同意，消費者盈餘及生產者盈餘皆上升意味總社會盈餘上升。

### **答題剖析**

錯誤將津貼總額當作消費者盈餘及生產者盈餘改變。

### **答題剖析**

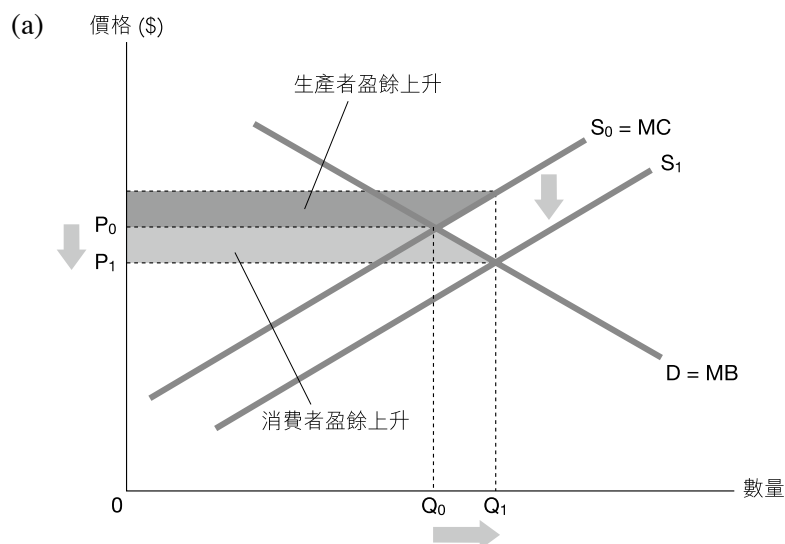
忽略了津貼會導致效率損失。

## **摘星提示**

- (a) 學生應該在圖上繪畫消費者盈餘及生產者盈餘的改變。
- (b) 學生必須知道津貼會造成生產過剩的效率損失。



## 星級答案



### 在圖中顯示：

- 供應上升 1
- 價格下降及交易量上升 1
- 消費者盈餘上升 1
- 生產者盈餘上升 1

### 文字解說：

- 從量津貼會降低廠商的邊際成本，令供應上升。 1
- 價格下降及交易量會上升。 1
- 消費者盈餘及生產者盈餘皆會上升。 1

- (b) 不同意， 1
- 因為邊際成本大於邊際利益，出現效率損失， 2
- 意味總社會盈餘下降了。

相關課題	4 下冊 第 14 章 效率、公平與政府
相關概念	界外影響

6. 中國近年興建大量鐵路。以界外影響為依據，解釋為甚麼興建鐵路可能造成無效率。

(4 分)

---

---

---

---

---

---

---

### 劣等答案

興建鐵路會令邊際成本大於邊際利益。

### 答題剖析

0 ..... 沒有運用界外影響作答。

### 摘星提示

學生應思考興建鐵路會帶來哪些界外成本。

### 星級答案

興建鐵路可能有界外成本。

1

例如，工程可能對環境造成污染，

部分居民亦可能被迫遷走而沒有獲得補償。

1

這可能令興建鐵路的邊際社會成本大於邊際社會利益，  
造成效率損失。

2

相關課題	4 下冊 第 14 章 效率、公平與政府
相關概念	公平

7. 2015 年的財政預算案提出為公屋租戶代繳 1 個月租金。以公平為依據，評價上述建議。

(3 分)

---



---



---



---



---

### 劣等答案

這政策能夠促進公平，因為它能夠幫助窮人。

### 答題剖析

0 ..... 答案內容與經濟學無關。

### 摘星提示

學生應該從收入均等化的角度思考。

### 星級答案

這政策能夠促進公平。 1

公屋租戶有入息限制，寬免公屋租金會增加窮人的可支配收入，

而富人的可支配收入則維持不變，有助達致收入均等化。 2